

## الموضوع الثاني

**التاريخ:**

**الجزء الأول: (06 نقاط)**

( ... حدثت تقريبا كل الأزمات المسلحة بين الكتلتين الشرقية والغربية على الساحة الأفرو آسيوية وأمريكا اللاتينية، من الحرب الكورية إلى استعراض العضلات في كوبا، ولم تغلت من الاختراق والاستخدام والتوجيه سوى القليل من حركات التحرر الوطني وفي مقدمتها الثورة الجزائرية (...).  
د/ محمد العربي ولد خليفة/ الجزائر والعالم.

**المطلوب:**

انطلاقا من السند وعلى ضوء ما درست:

- 1- عرّف المصطلحات التي تحتها خط.
- 2- املأ الجدول بالأزمات الدولية في القارات الثلاث المشار إليها في السند:

الأزمة	تاريخها	انعكاساتها

- 3- على خريطة العالم المرفقة عيّن مناطق الأزمات المسلحة المقصودة في السند.

**الجزء الثاني: (04 نقاط)**

(... في غمرة انتصار الحلفاء خرج الشعب الجزائري كبقية شعوب العالم ليعبر عن فرحته بتنظيم مسيرات سلمية مرخصة من قبل السلطات الاستعمارية رافعا شعارات تغني بها الحلفاء خلال الحرب العالمية الثانية ومبادئ ووعوداً قطعوها على أنفسهم (...).  
أحمد توفيق المدني/ هذه الجزائر.

**المطلوب:**

انطلاقا من السند واعتمادا على ما درست، اكتب مقالا تاريخيا تبين فيه:

- 1- أسباب تحول المظاهرات السلمية إلى مجازر "08 ماي 1945م".
- 2- انعكاسات هذه المجازر على مسار الحركة الوطنية الجزائرية.

**الجغرافيا:**

**الجزء الأول: (06 نقاط)**

إليك جدولاً يبين نسب استهلاك الغاز والبتروول في العالمين المتقدم والمتخلف:

المناطق	استهلاك الغاز %	استهلاك البترول %
العالم المتقدم	66	58
العالم المتخلف	34	42
المجموع	100	100

إدارة معلومات الطاقة 2006

**المطلوب:**

1- عرّف المصطلحات التالية:

- العالم المتقدم - العالم المتخلف - استهلاك الغاز والبتروول.

2- حول معطيات الجدول إلى دائرتين نسبيتين: نق = 3 سم.

3- علق على الرسم.

4- على خريطة العالم المرفقة عيّن أقطاب الاقتصاد العالمي و 03 دول سائرة في طريق النمو واحدة من كل قارة (آسيا - إفريقيا - أمريكا اللاتينية).

**الجزء الثاني: (04 نقاط)**

رغم تحكم الولايات المتحدة الأمريكية في مجالها الجغرافي وتنظيم أقاليمها باعتماد معايير تأخذ بعين الاعتبار الظروف الطبيعية والموارد البشرية والاقتصادية. إلا أنّ هناك ظروفًا وعوامل جعلت بعض أقاليمها تتفوق على الأخرى.

**المطلوب:**

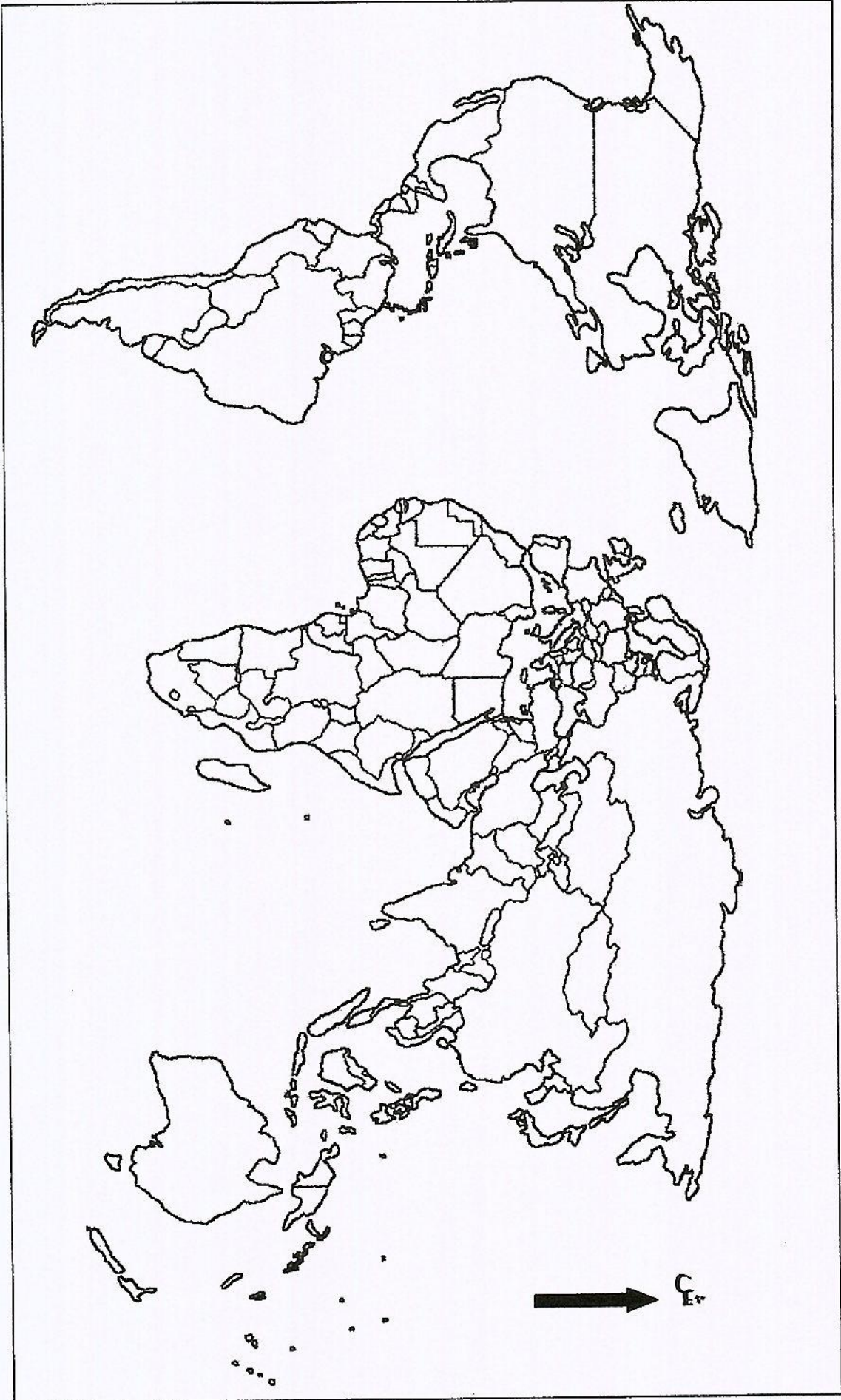
انطلاقاً من الفقرة واعتماداً على ما درست، اكتب مقالاً جغرافياً تحدّد فيه:

1- عوامل القوة الاقتصادية للولايات المتحدة الأمريكية.

2- تفوّق إقليم الواجهة الأطلسية.

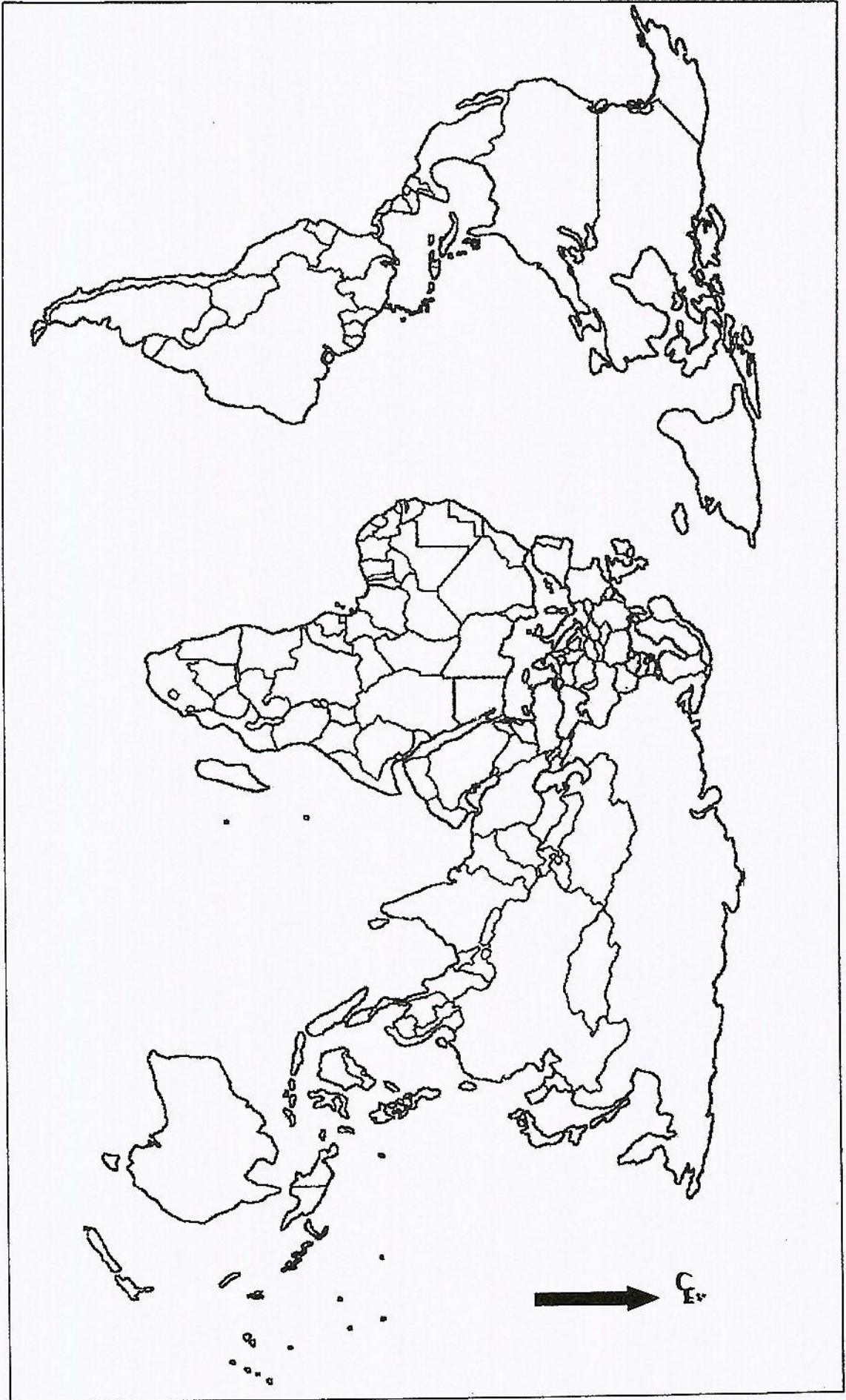



خريطة العالم



ينجز العمل المطلوب على الخريطة وتعاد مع أوراق الإجابة





خريطة العالم

ينجز العمل المطلوب على الخريطة وتعاد مع أوراق الإجابة







العلامة		عناصر الإجابة
المجموع	مجزأة	
	0.25	2- انعكاساتها على مسار الحركة الوطنية الجزائرية:
	0.25	* التأكد من عمق النضال السياسي ومحاوره فرنسا.
	0.25	* التأكد من أن ما أخذ بالقوة لا يسترد إلا بالقوة.
	0.25	* صدور قرار العفو العام 09 مارس 1946 وإعادة بناء الحركة الوطنية.
	0.25	* لجوء فرنسا إلى تهدة الأوضاع وضرب الحركة الوطنية ومحاولة احتوائها بإصدارها القانون الخاص 20 سبتمبر 1947.
	0.5	* التوجه نحو العمل المسلح بتأسيس الجناح العسكري لحركة انتصار الحريات الديمقراطية "المنظمة الخاصة".
	0.5	الخاتمة: مجازر 08 ماي 1945 منعرج حاسم في تغيير مسار النضال نحو الثورة المسلحة.
		الجغرافيا: الجزء الأول:
		1- تعريف المصطلحات:
	0.5	العالم المتقدم: يطلق على الدول المتطورة في الميادين الاقتصادية والسياسية والاجتماعية والتكنولوجية والثقافية، تقع معظم دوله شمال دائرة عرض 30° شمالا في أمريكا الشمالية و35° شمالا في أوروبا وآسيا إضافة إلى أستراليا ونيوزيلندا الواقعة في الجنوب.
	0.5	العالم المتخلف: يطلق على عالم الجنوب والذي تقع معظم دوله في النصف الجنوبي للكرة الأرضية بقارة آسيا وإفريقيا وأمريكا اللاتينية وهو مشكل من دول حديثة الاستقلال غنية بالمواد الطبيعية تعاني التبعية.
	0.5	استهلاك الغاز والبتروول: الطلب على المادتين لتغطية حاجيات الدولة الاقتصادية والخدماتية.
		2- التمثيل البياني:
	0.25	العنوان
	1	الانجاز
06	0.25	المفتاح
		3- التعليق على الرسم:
		العالم المتقدم:
	0.5	ارتفاع نسبة استهلاك المادتين لـ: ضخامة القطاع الاقتصادي والخدماتي والعسكري.
		العالم المتخلف:
	0.5	انخفاض نسبة استهلاك المادتين لـ: ضعف القطاع الاقتصادي والخدماتي.
		4- التعيين على الخريطة:
	0.25	العنوان
	0.25	المفتاح
	6×0.25	الانجاز
		الجزء الثاني:
		المقدمة: رغم تحكم الو.م.أ في مجالها الجغرافي بتنظيم أقاليمها باعتماد معايير تأخذ بعين الاعتبار الظروف الطبيعية والموارد البشرية والاقتصادية إلا أن هناك ظروفًا وعوامل جعلت بعض أقاليمها تتفوق على الأخرى.
	0.5	1- عوامل القوة الاقتصادية للولايات المتحدة الأمريكية: التاريخية:
		- المهدي الثاني للثورة الصناعية بفضل هجرة العلماء والمخترعين.
	0.25	- الاستفادة المادية من الحرب العالمية الأولى والثانية.




العلامة		عناصر الإجابة
المجموع	مجزأة	
04	0.25	<p>السياسية:</p> <ul style="list-style-type: none"> <li>- الأمن والاستقرار السياسي.</li> <li>- أسلوب التواصل في البناء الداخلي والخارجي لدى أحزابها السياسية.</li> <li>- عاصمة العالم السياسية لاحتضانها لمقر هيئة الأمم المتحدة.</li> </ul>
	0.25	<p>الطبيعية:</p> <ul style="list-style-type: none"> <li>- إستراتيجية الموقع الجغرافي وإيجابية الموقع الفلكي.</li> <li>- اتساع المساحة وتنوع المناخ.</li> <li>- سعة الشبكة الهيدروغرافية ووظيفتها.</li> <li>- وفرة الثروات الطبيعية الباطنية والسهلية.</li> </ul>
	0.25	<p>البشرية:</p> <ul style="list-style-type: none"> <li>- مجتمع حيوي يقدر المبادرة والإبداع.</li> <li>- انسجام أجناس المجتمع الأمريكي.</li> <li>- وفرة اليد العاملة بنوعها.</li> <li>- استقطاب الخبرات الأجنبية.</li> <li>- دعم الدولة للبحث العلمي والتكنولوجي.</li> </ul>
	0.5	<p>الاقتصادية:</p> <ul style="list-style-type: none"> <li>- وفرة رؤوس الأموال</li> <li>- استقطاب رؤوس الأموال الأجنبية</li> <li>- ضخامة الاستثمارات داخليا وخارجيا</li> <li>- تنوع وضخامة شبكة النقل والمواصلات.</li> <li>- السيطرة على الأسواق التجارية العالمية.</li> <li>- امتلاكها لمعظم الشركات الاحتكارية العالمية.</li> </ul>
	0.25	<p>2- تفوق إقليم الواجهة الأطلسية:</p> <p>العوامل التاريخية:</p> <ul style="list-style-type: none"> <li>- المهد الثاني للثورة الصناعية بعد إنجلترا.</li> <li>- محطة لاستقرار الوافدين من أوروبا وإفريقيا.</li> </ul>
	0.25	<p>العوامل الطبيعية:</p> <ul style="list-style-type: none"> <li>- الواجهة البحرية الأطلسية.</li> <li>- البحيرات الخمس.</li> <li>- ملائمة المناخ.</li> <li>- الشبكة الهيدروغرافية.</li> </ul>
	0.25	<p>العوامل البشرية:</p> <ul style="list-style-type: none"> <li>- مجمع المدن الكبرى (توفر اليد العاملة)</li> </ul>
	0.5	<p>العوامل الاقتصادية:</p> <ul style="list-style-type: none"> <li>- العاصمة المالية العالمية (مقر صندوق النقد الدولي).</li> <li>- مقر أكبر البورصات العالمية.</li> <li>- مجمع المعادن والطاقة.</li> <li>- سوق الاستهلاك والاستثمار.</li> </ul>
	0.25	<p>العوامل الإستراتيجية:</p> <ul style="list-style-type: none"> <li>- واجهة بحرية منفتحة على العالم (وجود موانئ عديدة).</li> <li>- واجهة أطلسية تربطها شرقا بأوروبا وإفريقيا وجنوبا بأمريكا اللاتينية.</li> </ul>
	0.5	<p>الخاتمة: رغم الظروف التاريخية التي أهلت الواجهة الأطلسية لتحل المرتبة الأولى في الاقتصاد الأمريكي إلا أن الإستراتيجية المتبناة تعمل على إحداث توازن إقليمي يعتمد على التخصص آخذة بعين الاعتبار مجريات الساحة العالمية.</p>

ملاحظة: تقبل كل الإجابات الصحيحة الأخرى مع احترام سلم التقييم الوطني.

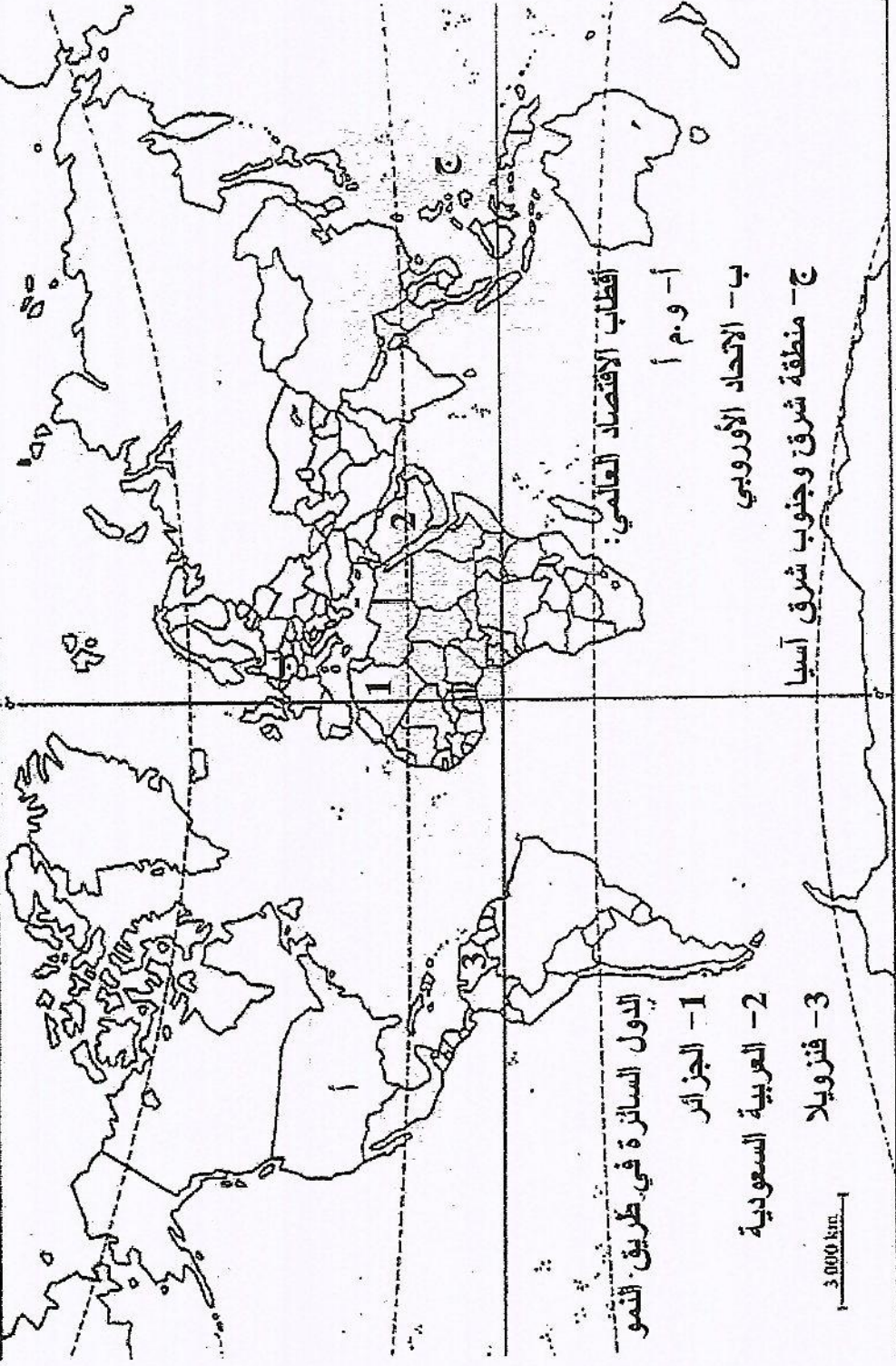


العلامة		عناصر الإجابة
المجموع	مجزأة	
توقيع مناطق الأزمات المسلحة المقصودة في السند		
<p>1- أزمة كوريا                  2- أزمة الهند الصينية                  3- أزمة السودان                  4- أزمة كوبا</p> <p>2000 km</p>		
<p>خريطة أزمات الحرب الباردة ( أفرو آسيوى + أمريكا اللاتينية )</p>		







العلامة	عناصر الإجابة
مجزأة	المجموع
	<p>تعين أقطاب الاقتصاد العالمي و03 دول سائرة في طريق النمو واحدة من كل قارة (آسيا - إفريقيا - أمريكا اللاتينية).</p> <p>خريطة العالم : أقطاب الاقتصاد العالمي - ثلاث دول سائرة في طريق النمو</p>  <p>أقطاب الاقتصاد العالمي:</p> <p>أ- و.م.أ          ب- الاتحاد الأوروبي          ج- منطقة شرق وجنوب شرق آسيا</p> <p>الدول السائرة في طريق النمو:</p> <p>1- الجزائر          2- العربية السعودية          3- فنزويلا</p> <p>3000 km</p>